

**SCHOOL BASED ASSESSMENT 2023**  
**MODEL PAPER**  
**GRADE 5**



**ENGLISH PART – B (Subjective Type)**

[Part A: 50 Marks Part B: 50 Marks Total: 100 Marks]

School : \_\_\_\_\_  
Tehsil : \_\_\_\_\_ District: \_\_\_\_\_

Student Name : \_\_\_\_\_ Section : \_\_\_\_\_

Roll Number : \_\_\_\_\_ Date : \_\_\_\_\_

**General Instructions for students :**

1. Read carefully and attempt all questions.
2. A question can consist of one or more parts.
3. Use black/blue ink for writing answers in separate answer sheet. Use of lead pencil is not allowed.

<b>Total Marks: 50</b>	<b>Part-B (Constructed Response Questions)</b>	<b>Total Time: 1 Hour 45 Minutes</b>
------------------------	--	--------------------------------------

Question No.1 :

Read the story carefully and answer the following questions. Use correct grammar, punctuation and spelling. Marks (10)

Once, a stag lived in a jungle. He used to drink clear water from a nearby stream. Whenever he saw his reflection in the water, he praised his beautiful horns. He felt proud of his horns. When he looked at his ugly thin legs, he disliked them. He thought that his legs were a shame for him. One day as he was drinking water and feeling sorrow for having ugly legs, he saw a pack of hounds running toward him at a short distance. He ran away. The hounds kept on chasing him. He ran as fast as his legs could. Soon, he left the hounds far behind.



1. Write a suitable title for the story. Marks (2)
2. Name the characters you found in the story. Marks (3)
3. How did the plot of the story evolve? Marks (5)

Question No.2 : Look at the picture. There are five characters with speech bubbles. Make sentences to describe the actions shown in the picture. Use correct grammar, punctuation and spelling. Marks (10)



Question No.3 : Write a short invitation to your friend to attend the wedding of your sister. Don't forget to write date, time, location, name of receiver, body of letter and name of sender. Use correct grammar, punctuation and spelling. Marks (10)

Question No.4 :

Make sentences of the following words. Use correct punctuation, grammar and spelling. Marks (10)

Inspiration

Model

Honest

Pray

Reject

Patience

Feel

Mountain

City

Milk

Question No.5 :

Listening and Speaking: Marks (10)

## Instructions for the Students

Read the following questions carefully.

Questions Group 1:

1. Where did Ali go on Sunday? Marks (5)
2. What did Ali's family wish? Marks (5)
3. Who told Ali about the history of old things? Marks (5)
4. What did Ali's family eat before ice cream? Marks (5)

Questions Group 2:

1. Where did they have lunch? Marks (5)
2. What Animal did Ali's sisters like? Marks (5)
3. Where did Ali go after visiting the zoo? Marks (5)
4. How many sisters does Ali have? Marks (5)

Note: Cut the paper from here -----

## Teacher's Copy

Instructions for the teacher:

- The listening and speaking paper will be conducted in groups one by one. The teacher will ask the students to read all the questions given with "Instructions for the Students" before reading the paragraph.
- The teacher will divide the class into groups with an equal number of students. Preferably make groups of 4 to 5 students.
- For each group, the teacher will read the following paragraph twice in front of the students.
- The teacher will call students one by one.
- Each student will be asked one question from each of the following two groups.
- The teacher will shuffle the questions for each student.
- The teacher will make sure to not repeat questions on consecutive students.
- The teacher will ask the students that their answers should be in a complete sentence form.

### Reading Paragraph Text for the Teacher

Ali went to the zoo last Sunday. Ali was very happy. He went there with his family. He has two sisters and one brother. He saw many animals there. He liked elephants, the most. His brother liked lions. His both sisters liked monkeys. They had lunch in a lawn in the zoo. After lunch, they enjoyed ice cream. Then, they went to the museum. They saw many old things in the museum. Their parents told them the history of things in the museum. After getting a lot of knowledge, they came back home. They enjoyed themselves a lot and wished to come again.

Questions Group 1:

1. Where did Ali go on Sunday? Marks (05)
2. What did Ali's family wish? Marks (5)
3. Who told Ali about the history of old things? Marks (5)
4. What did Ali's family eat before ice cream? Marks (5)

**Questions Group 2:**

1. Where did they have lunch? Marks (5)
2. What Animal did Ali's sisters like? Marks (5)
3. Where did Ali go after visiting the zoo? Marks (5)
4. How many sisters does Ali have? Marks (5)

**Sample Answer****Question group 1:**

1. Ali went to zoo on Sunday.
2. They wished to come again.
3. The parents told him the history of old things.
4. They ate lunch.

**Question group 2:**

1. They ate lunch in a lawn in zoo
2. Ali's sisters liked monkeys.
3. Ali went to the museum after the zoo.
4. Ali has two sisters.

**Award of marks:****For each question:**

- Correct Answer in complete sentence form, award 5 marks
- Partially correct answer in complete sentence form, award 3 marks
- Correct Answer only (no proper sentence), award 2 Marks
- Partially correct answer only (no proper sentence), award 1 Mark.

**Deduction of Marks**

- No deduction of marks for three pronunciation mistakes.
- Deduct 1 mark for four pronunciation mistakes.

**Note: Make an award list according to the given sample and record the results on that sheet.**

Grade 5		Punjab Examination Commission (Award List of listening and Speaking Questions)				
District:		Cluster Center:		Item Code:	14333	
Tehsil:		Exam Center:		Date:		
Roll No.	Student Name	Question Number	Obtained Marks(05)	Question Number	Obtained Marks (05)	Total Marks (10)
1						
2						
3						
4						
5						
6						
7						
8						
9						
10						

# SCHOOL BASED ASSESSMENT 2023

## MODEL PAPER

### GRADE 5



## ENGLISH PART – A (Objective Type)

[Part A: 50 Marks Part B: 50 Marks Total: 100 Marks]

School : \_\_\_\_\_  
 Tehsil : \_\_\_\_\_ District: \_\_\_\_\_

Student Name : \_\_\_\_\_ Section : \_\_\_\_\_

Roll Number : \_\_\_\_\_ Date : \_\_\_\_\_

**General Instructions for students :**

- 1) Use mask & keep at least 3 ft. distance from each other.
- 2) Read carefully and attempt all questions.
- 3) Encircle the correct option of each of the Multiple Choice Questions (MCQs) as shown in the example given below.

**Example :** He is \_\_\_\_\_ to school.

- a) goes
- b) went
- Ⓒ going
- d) go

4) If more than one options are encircled in a question, no mark will be given.

Total Marks: 50	Part-A (Multiple Choice Questions)	Total Time: 1 Hour
-----------------	------------------------------------	--------------------

**Instructions: - Twenty five (25) questions are given in this paper. Each question carries 2 marks.**

**Question No.1 :** Which word has a silent letter?

- (a) Lamb
- (b) Goat
- (c) Cow
- (d) Buffalo

**Question No.2 :** Rearrange these letters "enmtmo" to make a meaningful word.

- (a) Memton
- (b) Temnom
- (c) Moment
- (d) Momnet

**Question No.3 :** Select the part of body that begins with a vowel sound.



(a)



(b)



(c)



(d)

**Question No.4 :** Choose the "Countable Noun" from the following objects.

- (a) Oil
- (b) Salt
- (c) Tea
- (d) Cake

**Question No.5 :** Choose the synonym of "Pleasure".

- (a) Roughness
- (b) Sadness
- (c) Boredom
- (d) Happiness

**Question No.6 :** Identify the homophone of "Write" from the following.

- (a) Right
- (b) Bright
- (c) Tried
- (d) Fried

**Question No.7 :** Make a compound word from the given picture.

- (a) Sunflower
- (b) Sunlight
- (c) Sunday
- (d) Sunset



**Question No.8 :** Identify the neuter gender in the picture.

- (a) Dove
- (b) Plant
- (c) Bee
- (d) Hunter



**Question No.9 :** "He introduced \_\_\_\_\_ to the teacher."

- (a) herself
- (b) himself
- (c) myself
- (d) yourself

**Question No.10 :** "Aslam is an intelligent boy. \_\_\_\_ works hard."

- (a) He
- (b) She
- (c) They
- (d) Them

**Question No.11 :** "My mother is \_\_\_\_\_ housewife."

- (a) the
- (b) any
- (c) a
- (d) an

**Question No.12 :** Which of the following words shows an action?

- (a) School
- (b) Diary
- (c) Story
- (d) Read

**Question No.13 :** Select the adjective of quantity from the sentence below.  
"A big black cat jumped over the fifth window."

- (a) Black
- (b) Big
- (c) Fifth
- (d) Over

**Question No.14 :** Identify the adverb of time from the following.

- (a) Easily
- (b) Bravely
- (c) Quickly
- (d) Early

**Question No.15 :** Look at the picture and fill in the blank.  
"There is a bridge \_\_\_\_\_ the river."

- (a) away
- (b) under
- (c) over
- (d) before



**Question No.16 :** Identify the word with correct use of hyphen.

- (a) -Onethird
- (b) Wellknown-
- (c) fortyf-ive
- (d) Eighty-seven

**Question No.17 :** "The baby \_\_\_\_\_ in his crib."

- (a) sleeps
- (b) sleeping
- (c) sleepy
- (d) sleep

**Question No.18 :** Identify the interrogative sentence.

- (a) The boy was washing his hands.
- (b) The boy is not washing his hands.
- (c) Is the boy washing his hands?
- (d) The boy was not washing his hands.

**Question No.19 :** Identify the irregular verb.

- (a) Ask
- (b) Dance
- (c) Speak
- (d) Work

**Question No.20 :** "Please come here and help me to pack \_\_\_\_ gift."

- (a) this
- (b) then
- (c) these
- (d) those

**Question No.21 :** "The fire is hot but the ice is\_\_\_\_\_."

- (a) warm
- (b) heated
- (c) cold
- (d) fiery

**Paragraph Instruction**

**Read the following paragraph carefully and answer the questions given below.**

Plastic bags are commonly used today. They make our work easier. They have become an essential part of our lives now. We use them almost every day. It is time to say 'No' to plastic bags. We must stop using them. Plastic takes thousands of years to break down and decompose. It also causes water pollution. Plastic causes the death of animals. The animals have no sense of what to eat and what to avoid. We should avoid the plastic bags for the greater good. We must not use plastic bags to make this Earth a healthy place to live in.



**Question No. 22 : Guess the meaning of the word "Essential".**

- (a) Necessary
- (b) Unnecessary
- (c) Inessential
- (d) Optional

**Question No.23 : Identify the central theme of the paragraph.**

- (a) Avoid plastic bags to save our environment.
- (b) Plastic bags are cheap.
- (c) We should use plastic bags.
- (d) Plastic bags are good for the Earth.

**Question No.24 : According to the paragraph, what is the one cause of water pollution?**

- (a) Plastic bags
- (b) Earth
- (c) Decomposition
- (d) Animals

**Question No.25 : Why are the plastic bags commoly used today?**

- (a) Because they cause water pollution.
- (b) Because they make our work easier.
- (c) Beacuse it is time to say 'NO' to plastic bags.
- (d) Because they take thousands of years to decompose.

**SCHOOL BASED ASSESSMENT 2023**  
**MODEL PAPER**  
**GRADE 5**



**ISLAMIAT PART – B (Subjective Type)**

[Part A: 50 Marks Part B: 50 Marks Total: 100 Marks]

School : \_\_\_\_\_  
Tehsil : \_\_\_\_\_ District: \_\_\_\_\_

Student Name : \_\_\_\_\_ Section : \_\_\_\_\_

Roll Number : \_\_\_\_\_ Date : \_\_\_\_\_

**General Instructions for students :**

1. Use separate answer sheet for writing answers and give your personal information on it as well

جو ابات لکھنے کے لیے علیحدہ سے جوابی کاپی کا استعمال کریں اور اس کے اوپر بھی اپنے بارے میں معلومات دیں۔

2. Read carefully and attempt all questions

غور سے پڑھیں اور تمام سوالات حل کریں۔

3- A question can consist of one or more parts.

ایک سوال ایک یا ایک سے زیادہ حصوں پر مشتمل ہو سکتا ہے۔

4- Use black/blue ink for writing answers. Use of lead pencil is not allowed.

جواب لکھنے کے لیے کالی / نیلی روشنائی کا استعمال کریں۔ کچی پنسل کے استعمال کی اجازت نہیں ہے۔

**Total Marks: 50**

**Part-B (Constructed Response Questions)**

**Total Time: 1 Hour 45 Minutes**

**Question No: 1**

سوال نمبر 1

a ) What is the concept of the Hereafter belief? (2)

(a) عقیدہ آخرت سے کیا مراد ہے؟ (2)

b ) What benefits do humans get by believing in the Hereafter? (4)

(b) عقیدہ آخرت سے انسان کو کیا کیا فوائد حاصل ہوتے ہیں؟ (4)

c ) Describe the importance of the Hereafter belief. (4)

(c) عقیدہ آخرت کی اہمیت و فضیلت بیان کریں۔ (4)

**Question No: 2**

سوال نمبر 2

a ) What caused the Ghazwa e Badr? (3)

(a) غزوہ بدر کس وجہ سے پیش آیا؟ (3)

b ) What was the difference between the war preparations of the Muslims and the disbelievers of Makkah at the time of the Battle of Badr? (3)

(b) غزوہ بدر کے وقت مسلمانوں اور کفار مکہ کی جنگی تیاریوں میں کیا فرق تھا؟ (3)

c ) Why the Badr day has been called as youm Al-Furqan in the Holy Quran? (4)

(c) قرآن مجید میں یوم بدر کو یوم الفرقان کیوں کہا گیا ہے؟ (4)

**Question No: 3**

سوال نمبر 3

a ) What is meant by tolerance? (3)

(a) رواداری سے کیا مراد ہے؟ (3)

b ) What has Allah Almighty commanded in the Holy Quran about tolerance? (3)

(b) رواداری کے بارے میں قرآن مجید میں اللہ تعالیٰ نے کیا حکم دیا ہے؟ (3)

c ) Describe in detail one example of tolerance in the life of the Rasoolullah(4) صلی اللہ علیہ وعلی آلہ واصحابہ وسلم

(c) رسول اللہ صلی اللہ علیہ وعلی آلہ واصحابہ وسلم کی زندگی سے رواداری کی کوئی ایک مثال تفصیل سے بیان کریں۔ (4)

Question No: 4

سوال نمبر 4

a ) What is concept of Islamic brotherhood?(2 Marks)

(a) اسلامی اخوت سے کیا مراد ہے؟ (2 نمبر)

b ) Describe any four qualities of Muslim society: ( 04 Marks)

(b) مسلم معاشرے میں اخوت کی کوئی سے چار خوبیاں بیان کریں۔ (04 نمبر)

c ) Describe the importance of brotherhood in the light of Seert-e-sahaba kiram رضوان اللہ تعالیٰ علیہم اجمعین (04 marks)

(c) صحابہ کرام رضوان اللہ تعالیٰ علیہم اجمعین کی سیرت کی روشنی میں اخوت کی اہمیت و فضیلت بیان کریں۔ (04)

Question No: 5

سوال نمبر 5

a ) Write anyone saying of Allah Almighty on the importance of tree plantation. (2 Marks)

(a) شجرکاری کی اہمیت پر اللہ تعالیٰ کا کوئی ایک فرمان لکھیں۔ (2 نمبر)

b ) Write any four benefits of plants. (4 Marks)

(b) پودوں کے چار فائدے لکھیں (4 نمبر)۔

c ) Write any two Ahadith on the importance of plants and trees.

(c) پودوں اور درختوں کی اہمیت پر کوئی سی دو احادیث مبارکہ تحریر لکھیں۔



# SCHOOL BASED ASSESSMENT 2023

## MODEL PAPER

### GRADE 5

## ISLAMIAT PART – A (Objective Type)

[Part A: 50 Marks Part B: 50 Marks Total: 100 Marks]



School : \_\_\_\_\_

Tehsil : \_\_\_\_\_

District: \_\_\_\_\_

Student Name : \_\_\_\_\_

Section : \_\_\_\_\_

Roll Number : \_\_\_\_\_

Date : \_\_\_\_\_

### General Instructions for students :

طلبہ کے لیے عمومی ہدایات:

1) Use mask & keep at least 3 ft. distance from each other.

۱۔ ماسک پہنیں اور آپس میں کم از کم 3 فٹ کا فاصلہ رکھیں۔

2) Read carefully and attempt all questions.

۲۔ غور سے پڑھیں اور تمام سوالات حل کریں۔

3) Encircle the correct option of each of the Multiple Choice Questions (MCQs) as shown in the example given below.

۳۔ ہر کثیر الانتخابی سوال کے صحیح جواب پر دائرہ لگائیں جیسا کہ نیچے دی گئی مثال میں دکھایا گیا ہے۔

مثال : مسلمانوں پر روزانہ کتنی نمازیں فرض ہیں؟

Example : How many Salah are obligatory for Muslims in a day?

Four

(b) چار

Three

(a) تین

Six

(d) چھ

Five

(c) پانچ

4) If more than one options are encircled in a question, no mark will be given.

۴۔ اگر کسی سوال میں ایک سے زیادہ جوابات کے گرد دائرہ لگایا گیا تو کوئی نمبر نہیں دیا جائے گا۔

Total Marks: 50

Part-A (Multiple Choice Questions)

Total Time: 1 Hour

Instructions: Twenty-five (25) Multiple Choice Questions (MCQs) are given in this part. Each question carries two marks.

ہدایات: اس حصہ میں 25 کثیر الانتخابی سوالات دیے گئے ہیں۔ ہر سوال کے 2 نمبر ہیں۔

Question No.1 : According to the Hadith, an angel is assigned protection of those who recite the whole night:

سوال نمبر 1: حدیث مبارکہ کے مطابق پڑھنے سے رات کو فرشتہ حفاظت پر مامور ہو جاتا ہے:

(a) Ayat-e-Karema

آیت کریمہ

(b) Ayat-ul-Kursi

آیت الکرسی

(c) Surah Al-Fatiha

سورۃ الفاتحہ

(d) Surah Ikhlas

سورۃ اخلاص

Question No.2 : The reason to call Surah Al-Fatihah as Surah Al-Hamd is that mentioned in it:

سوال نمبر 2: سورۃ الفاتحہ کو سورۃ الحمد کہنے کی وجہ ہے کہ اس میں ذکر ہے:

(a) praise be to Allah

اللہ تعالیٰ کی تعریف کا

(b) the Oneness of Allah Almighty

اللہ تعالیٰ کی وحدانیت کا

(c) the power of Allah Almighty

اللہ تعالیٰ کی قدرت کا

(d) the divinity of Allah Almighty

اللہ تعالیٰ کی الوہیت کا

Question No.3 : What dua should we recite in order to attain safety of Allah Almighty and to be protected from external and internal enemies?

سوال نمبر 3: ہمیں اللہ تعالیٰ کی امان کے حصول اور ظاہری و باطنی دشمنوں سے بچاؤ کے لیے کونسی دعا پڑھنی چاہیے؟

(a) Dua for Traveling

سواری پر سوار ہونے کی

(b) Dua for entrance in the Masjid

مسجد میں داخل ہونے کی

(c) Dua to go out from home

گھر سے نکلنے کی

(d) Dua to enter in the home

گھر میں داخل ہونے کی

**Question No.4 :** The best effect of Belief in the day of judgment on human life is:

سوال نمبر 4: عقیدہ آخرت کے انسانی زندگی پر اثرات میں سب سے بہترین ہے:

- (a) world of thought فکر دنیا (b) thinking of the Hereafter فکر آخرت  
(c) thought of wealth فکر مال (d) family فکر عیال

**Question No.5 :** Khatm e Nubuwat is an essential component of:

سوال نمبر 5: ختم نبوت لازمی جزو ہے:

- (a) belief in Touheed عقیدہ توحید کا (b) belief in Risalat عقیدہ رسالت کا  
(c) belief in Malaika ایمان بالملائکہ کا (d) belief in Hearafter عقیدہ آخرت کا

**Question No.6 :** "واقرضو اللہ قرضا حسنا" indicates the act of:

سوال نمبر 6: "واقرضو اللہ قرضا حسنا" میں اشارہ ہے:

- (a) Jihad جہاد کا (b) Zakat زکوٰۃ کا (c) Namaz نماز کا (d) Soam روزہ کا

**Question No.7 :** When you go to Namaz e Juma and if there is a crowd, you should sit in the Masjid:

سوال نمبر 7: آپ نماز جمعہ پڑھنے جائیں اور ہجوم ہو تو آپ مسجد میں بیٹھنا چاہیے:

- (a) In the front row اگلی صف میں (b) With the Imam امام کے ساتھ  
(c) In the last row آخری صف میں (d) at space you find جہاں جگہ ملے

**Question No.8 :** Accordig to Hadith e Rasool وسلم وعلی آلہ واصحابہ , Fitrana should be paid on:

سوال نمبر 8: حدیث رسول صلی اللہ علیہ وعلی آلہ واصحابہ وسلم میں فطرانہ ادا کرنے کا حکم دیا گیا ہے:

- (a) Milad.ul. Nabi صلی اللہ علیہ وعلی آلہ واصحابہ وسلم میلاد النبی صلی اللہ علیہ وعلی آلہ واصحابہ وسلم پر (b) Eid-ul-Fitr عید الفطر پر  
(c) Eid-ul-Adha عید الاضحیٰ پر (d) the day of Ashoor یوم عاشور پر

**Question No.9 :** Rasoolullah صلی اللہ علیہ وعلی آلہ واصحابہ وسلم called as the solace/comfort of his eyes to:

سوال نمبر 9: رسول اللہ صلی اللہ علیہ وعلی آلہ واصحابہ وسلم نے اپنی آنکھوں کی ٹھنڈک قرار دیا ہے:

- (a) the Salah نماز کو (b) the Saom روزہ کو (c) the Zakat زکوٰۃ کو (d) the Hajj حج کو

**Question No.10 :** When Muslims are persecuted in non-Islamic countries, the last option for Muslims is:

سوال نمبر 10: غیر اسلامی ممالک میں جب مسلمانوں پر مظالم ڈھائے جائیں تو مسلمانوں کے لیے آخری حل ہے:

- (a) tolerance رواداری (b) patience صبر (c) migration ہجرت (d) conviction قناعت

**Question No.11 :** What is the name of the Masjid built by Rasoolullah صلی اللہ علیہ وعلی آلہ واصحابہ وسلم at the very first?

سوال نمبر 11: رسول اللہ صلی اللہ تعالیٰ علیہ وعلی آلہ واصحابہ وسلم نے جو پہلی مسجد تعمیر فرمائی اس کا کیا نام ہے؟

- (a) Masjid Nabawi صلی اللہ تعالیٰ علیہ وعلی آلہ واصحابہ وسلم مسجد نبوی صلی اللہ تعالیٰ علیہ وعلی آلہ واصحابہ وسلم (b) Masjid Quba مسجد قباء  
(c) Masjid Haraam مسجد حرام (d) Masjid Aqsa مسجد اقصیٰ

**Question No.12 :** The meaning of Okhuwwat is :

سوال نمبر 12: اخوت کا مطلب ہے:

- (a) brotherhood بھائی چارہ (b) responsibility ذمہ داری (c) friendship دوستی (d) affection محبت

**Question No.13 :** The Sahaba who got education in Masjid Nabvi صلی اللہ علیہ وعلی آلہ واصحابہ وسلم, are called:

سوال نمبر 13: مسجد نبوی صلی اللہ علیہ وعلی آلہ واصحابہ وسلم میں تعلیم پانے والے اصحاب کہلاتے ہیں:

- (a) The Ashaab-il-Feel اصحاب الفیل (b) Ashaab-e-Kahaf اصحاب کہف  
(c) Ashaab-e-Suffa اصحاب صفہ (d) Ashab-e- Slaasa اصحاب ثلاثہ

**Question No.14 :** If two groups of your class quarrel, what will you do?

سوال نمبر 14: آپ کی جماعت کے دو گروہ آپس میں لڑ پڑیں تو آپ کیا کریں گے؟

- (a) Discuss with them ان کے درمیان صلح کروائیں گے  
(b) Form an agreement between them ان سے گفتگو کریں گے  
(c) Report to teacher ان کو خبر دار کریں گے  
(d) Warn them استاد کو ان کی شکایت کریں گے

**Question No.15 :** According to Surah Al-An'am, not to speak ill about those whom the non-believers invoke besides Allah Almighty, is also a:

سوال نمبر 15: سورۃ الانعام کے مطابق مشرکین جن کو اللہ کے علاوہ پکارتے ہیں ان کو برا نہ کہنا، بھی ہے:

- (a) forgiveness عفو و درگزر (b) justice عدل (c) tolerance رواداری (d) Kindness رحمدلی

**Question No.16 :** In order to maintain peace in society, the opinions and feelings of others must be taken into account is called:

سوال نمبر 16: معاشرے میں امن قائم رکھنے کے لئے دوسروں کی رائے اور جذبات کا لحاظ رکھنا ہے:

- (a) truthfulness راست بازی (b) tolerance رواداری  
(c) frugality کفایت شعاری (d) generosity سخاوت

**Question No.17 :** One can save himself from poverty by:

سوال نمبر 17: تنگ دست ہونے سے بچا جا سکتا ہے:

- (a) observing justice عدل و انصاف سے (b) observing austerity کفایت شعاری سے  
(c) layout to truthfulness صداقت سے (d) fullfillment of promise ایفائے عہد سے

**Question No.18 :** After sending Hazrat Abu Jundal رضی اللہ تعالیٰ عنہ back to Makkah, Rasoolullah و سلم و اصحابہ و آلہ و علیہ و آلہ و اصحابہ و سلم رضی اللہ تعالیٰ عنہ demonstrated:

سوال نمبر 18: حضرت ابو جندل رضی اللہ تعالیٰ عنہ کو مکہ واپس بھیج کر رسول اللہ صلی اللہ علیہ و آلہ و اصحابہ و سلم نے مظاہرہ فرمایا:

- (a) the covenant ایفائے عہد کا (b) honesty امانت داری کا (c) forgiveness عفو و درگزر کا (d) moderation اعتدال پسندی کا

**Question No.19 :** Jamil brought medicine from hospital for his poor sick neighbor, in this act he demonstrated:

سوال نمبر 19: جمیل نے اپنے غریب بیمار ہمسائے کو ہسپتال سے دوا لا کر دی، اس عمل کے ذریعے اس نے مظاہرہ کیا:

- (a) torerance رواداری کا (b) honesty امانت داری کا (c) brotherhood اخوت کا (d) forgiveness درگزر کا

**Question No.20 :** A effective way to eliminate backbiting from society is:

سوال نمبر 20: چغل خوری کو معاشرے سے ختم کرنے کا اہم اور مؤثر ذریعہ ہے:

- (a) to get rid of backbiter from the area. چغل خور کو علاقے سے نکال دیا جائے  
(b) not to believe the backbiter چغل خور کی بات پر یقین نہ کیا جائے  
(c) to punish the backbiter severely چغل خور کو سخت سزا دی جائے  
(d) to stay away from backbiter چغل خور سے قطع تعلق کی جائے

**Question No.21 :** Hazrat Maryam علیہا السلام was the mother of:

سوال نمبر 21: حضرت مریم علیہا السلام والدہ تھیں:

- (a) Hazrat Daood علیہ السلام حضرت داود علیہ السلام کی (b) Hazrat Musa علیہ السلام حضرت موسیٰ علیہ السلام کی  
(c) Hazrat Noah علیہ السلام حضرت نوح علیہ السلام کی (d) Hazrat Esa علیہ السلام حضرت عیسیٰ علیہ السلام کی

**Question No.22 :** The reason of the title of Hazrat Ali "fateh e khyber" is:

سوال نمبر 22: حضرت علی المرتضیٰ رضی اللہ تعالیٰ عنہ کے لقب 'فاتح خیبر' کی وجہ ہے:

- (a) generosity سخاوت (b) bravery شجاعت (c) justice عدالت (d) honesty دیانت

**Question No.23 :** Be happy with a little thing and be contented with it, this is the saying of:

سوال نمبر 23: تھوڑی چیز پر خوش رہو اور اس پر قناعت کرو، یہ قول ہے:

- (a) Hazrat Data Ganj Bakhsh Hajveri رحمۃ اللہ علیہ حضرت داتا گنج بخش ہجویری رحمۃ اللہ علیہ کا
- (b) Hazrat Jalaluddin Rumi رحمۃ اللہ علیہ حضرت جلال الدین رومی رحمۃ اللہ علیہ کا
- (c) Hazrat Syed Muhammad Rashid Roza Thehni رحمۃ اللہ علیہ حضرت سید محمد راشد روضہ دہنی رحمۃ اللہ علیہ کا
- (d) Hazrat Sheikh Abdul Qadir Jilani رحمۃ اللہ علیہ حضرت شیخ عبدالقادر جیلانی رحمۃ اللہ علیہ کا

**Question No.24 :** According to Islamic teachings, to protect one's own life is:

سوال نمبر 24: اسلامی تعلیمات کی روشنی میں اپنی جان کی حفاظت کرنا ہے:

- (a) Sunnat سنت (b) Mustahab مستحب
- (c) Farz فرض (d) Wajib واجب

**Question No.25 :** Planting is a rewarding job that reduce:

سوال نمبر 25: پودے لگانا ثواب کا کام ہے اس سے کم ہوتا ہے:

- (a) busniss کاروبار (b) smoke دھواں
- (c) temperature درجہ حرارت (d) oxygen Level آکسیجن کا لیول

# SCHOOL BASED ASSESSMENT 2023

## MODEL PAPER

### GRADE 5

## MATHEMATICS PART – B (Subjective Type)

[Part A: 50 Marks Part B: 50 Marks Total: 100 Marks]



School : \_\_\_\_\_  
Tehsil : \_\_\_\_\_ District: \_\_\_\_\_

Student Name : \_\_\_\_\_ Section : \_\_\_\_\_

Roll Number : \_\_\_\_\_ Date : \_\_\_\_\_

#### General Instructions for students :

1. Read carefully and attempt all questions.

۱۔ غور سے پڑھیں اور تمام سوالات حل کریں۔

2. A question can consist of one or more parts.

۲۔ ایک سوال ایک یا ایک سے زیادہ حصوں پر مشتمل ہو سکتا ہے۔

3. Use black/blue ink for writing answers in separate answer sheet. Use of lead pencil is not allowed.

۳۔ جواب لکھنے کے لیے الگ سے جوابی کاپی میں کالی / نیلی روشنائی کا استعمال کریں۔ کچی پنسل کے استعمال کی اجازت نہیں ہے۔

Total Marks: 50

Part-B (Constructed Response Questions)

Total Time: 1 Hour 45 Minutes

#### Question No: 1

سوال نمبر 1

a) Solve:  $31211 \times 201$  (5 marks)

(a) حل کریں:  $31211 \times 201$  (5 نمبر)

b) The price of a car is Rs 1 250 636 and the price of a tractor is Rs 1 054 392. Find the total price of the car and the tractor. (5 marks)

(b) ایک کار کی قیمت 1250636 روپے اور ایک ٹریکٹر کی قیمت 1054392 روپے ہے۔ کار اور ٹریکٹر کی کل قیمت معلوم کریں۔ (5 نمبر)

#### Question No: 2

سوال نمبر 2

a) Find HCF of 25, 45, and 50 by using prime factorization method. (5 marks)

(a) 25، 45 اور 50 کا عظیم بذریعہ مفرد تجزیہ معلوم کریں۔ (5 نمبر)

b) Solve:  $5.22 \times 1.62$  (5 marks)

(b) حل کریں:  $5.22 \times 1.62$  (5 نمبر)

#### Question No: 3

سوال نمبر 3

a) Solve  $2.79 \div 4.5$  (5 marks)

(a) حل کریں۔  $2.79 \div 4.5$  (5 نمبر)

b) A basket has different fruits. 16% of them are mangoes. Write this percentage in fraction and decimal. (5 marks)

(b) ایک ٹوکری میں مختلف پھل ہیں ان میں 16% آم ہیں۔ اسے کسر عام اور کسر اعشاریہ میں لکھیں۔ (5 نمبر)

#### Question No: 4

سوال نمبر 4

a ) Construct a triangle  $\triangle ABC$ , when  $m\overline{AB} = 4cm$ ,  $m\overline{BC} = 5cm$  and  $m\angle B = 45^\circ$ . (5 marks)

(a) مثلث  $\triangle ABC$  بنائیں، جبکہ  $m\overline{AB} = 4cm$ ،  $m\overline{BC} = 5cm$  اور  $m\angle B = 45^\circ$ ۔ (5 نمبر)

b ) Find the perimeter and area of a rectangle whose length is 12cm and width is 8cm. (5 marks)

(b) مستطیل کا احاطہ اور رقبہ معلوم کریں جس کی لمبائی 12 سینٹی میٹر اور چوڑائی 8 سینٹی میٹر ہے۔ (5 نمبر)

Question No: 5

سوال نمبر 5

a ) Farhad has 55 dresses of Black colour, 35 dresses of White colour and 60 dresses of Blue colour in his shop. Find the average of all dresses. (5 marks)

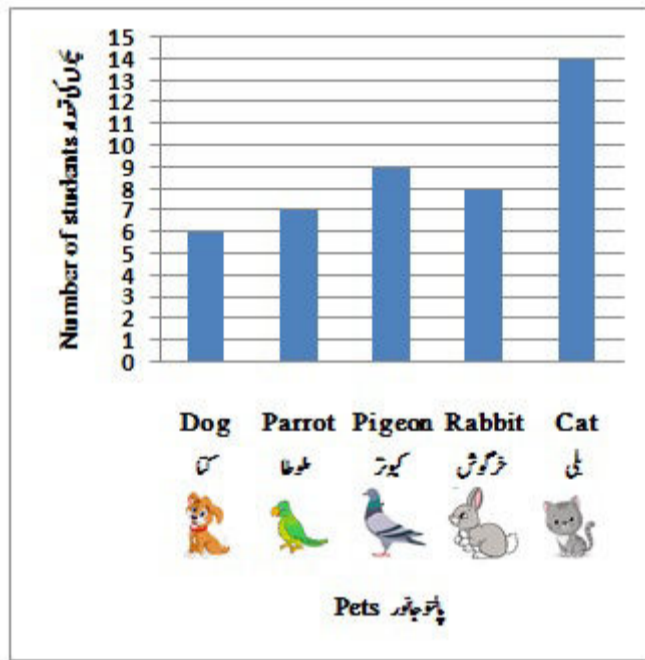
(a) فرہاد کی دوکان میں 55 کالے رنگ کے، 35 سفید اور 60 نیلے رنگ کے سوٹ ہیں۔ تمام سوٹوں کی اوسط معلوم کریں۔ (5 نمبر)

b ) The given bar graph shows number of kids and their favourite pets. Study the graph carefully and answer the given questions: (5 marks)

- How many kids like Rabbit?
- Which pet, kids like the least?

(b) دیئے گئے بار گراف میں بچوں کی تعداد اور ان کے پسندیدہ پالتو جانوروں کو ظاہر کیا گیا ہے۔ گراف کو غور سے پڑھ کر نیچے دیئے گئے سوالات کے جوابات دیں۔ (5 نمبر)

- کتنے بچے خرگوش کو پسند کرتے ہیں؟
- کس پالتو جانور کو بچے سب سے کم پسند کرتے ہیں؟



# SCHOOL BASED ASSESSMENT 2023

## MODEL PAPER

### GRADE 5

## MATHEMATICS PART – A (Objective Type)

[Part A: 50 Marks Part B: 50 Marks Total: 100 Marks]



School : \_\_\_\_\_  
Tehsil : \_\_\_\_\_ District: \_\_\_\_\_

Student Name : \_\_\_\_\_ Section : \_\_\_\_\_  
Roll Number : \_\_\_\_\_ Date : \_\_\_\_\_

#### General Instructions for students :

طلبہ کے لیے عمومی ہدایات:

1) Use mask & keep at least 3 ft. distance from each other.

۱۔ ماسک پہنیں اور آپس میں کم از کم 3 فٹ کا فاصلہ رکھیں۔

2) Read carefully and attempt all questions.

۲۔ غور سے پڑھیں اور تمام سوالات حل کریں۔

3) Encircle the correct option of each of the Multiple Choice Questions (MCQs) as shown in the example given below.

۳۔ ہر کثیر الانتخابی سوال کے صحیح جواب پر دائرہ لگائیں جیسا کہ نیچے دی گئی مثال میں دکھایا گیا ہے۔

Example :  $64 \div 8 =$

a) 4                      b) 6                      c) 8                      d) 12

4) If more than one options are encircled in a question, no mark will be given.

۴۔ اگر کسی سوال میں ایک سے زیادہ جوابات کے گرد دائرہ لگایا گیا تو کوئی نمبر نہیں دیا جائے گا۔

Total Marks: 50

Part-A (Multiple Choice Questions)

Total Time: 1 Hour

Instructions: Twenty five (25) Multiple Choice Questions (MCQs) are given in this paper. Each question carries 2 marks.

ہدایات: اس پیپر میں پچیس (25) کثیر الانتخابی سوالات دیے گئے ہیں۔ ہر سوال کے 2 نمبر ہیں۔

Question No.1 : The number of digits in 1 million are:

سوال نمبر 1: ایک ملین میں ہندسوں کی تعداد ہے۔

(a) 6                      (b) 7  
(c) 8                      (d) 9

Question No.2 : Solve  $14025 - 1129$

سوال نمبر 2: حل کریں  $14025 - 1129$

(a) 11896                      (b) 12896  
(c) 12996                      (d) 13896

Question No.3 : Solve  $4570 \times 100$

سوال نمبر 3: حل کریں  $4570 \times 100$

(a) 4570                      (b) 45700  
(c) 457000                      (d) 4570000

Question No.4 : If due to Covid safety measures, only 25 students can sit in a class room, then classrooms required for 150 students will be:

سوال نمبر 4: اگر کرونا وائرس احتیاطی تدابیر کے تحت صرف 25 طلبہ ایک کمرہ جماعت میں بیٹھ سکتے ہوں تو 150 طلبہ کے لیے کمرے درکار ہوں گے۔

(a) 2                      (b) 4  
(c) 6                      (d) 8

**Question No.5 :** The HCF of 60 and 42 is:

- (a) 4  
(c) 6

- (b) 5  
(d) 7

سوال نمبر 5: 60 اور 42 کا عدا اعظم ہے۔

**Question No.6 :** LCM of 12 and 15 is:

- (a) 3  
(c) 15

- (b) 12  
(d) 60

سوال نمبر 6: 12 اور 15 کا ذواضعاف اقل ہے۔

**Question No.7 :** Solve  $\frac{5}{3} - \frac{7}{6}$

- (a)  $-\frac{1}{3}$   
(c)  $\frac{1}{3}$

- (b)  $-\frac{1}{2}$   
(d)  $\frac{1}{2}$

سوال نمبر 7: حل کریں۔  $\frac{5}{3} - \frac{7}{6}$

**Question No.8 :** Solve  $\frac{3}{7} \times \frac{7}{3}$

- (a) 1  
(c) 21

- (b) 3  
(d) 49

سوال نمبر 8: حل کریں  $\frac{3}{7} \times \frac{7}{3}$

**Question No.9 :** Solve  $\frac{4}{15} \div \frac{2}{5}$

- (a)  $\frac{2}{3}$   
(c)  $\frac{8}{15}$

- (b)  $\frac{2}{5}$   
(d)  $\frac{8}{75}$

سوال نمبر 9: حل کریں  $\frac{4}{15} \div \frac{2}{5}$

**Question No.10 :** Solve.  $3.141 + 14.28$

- (a) 17.169  
(c) 17.431

- (b) 17.421  
(d) 17.531

سوال نمبر 10: حل کریں۔  $3.141 + 14.28$

**Question No.11 :** Solve  $3.06 \times 24$

- (a) 0.7344  
(c) 73.44

- (b) 7.344  
(d) 734.4

سوال نمبر 11: حل کریں۔  $3.06 \times 24$

**Question No.12 :** Solve  $1.47 \div 7$

- (a) 0.20  
(c) 0.22

- (b) 0.21  
(d) 0.23

سوال نمبر 12: حل کریں۔  $1.47 \div 7$

**Question No.13 :** The assending order of 3.82, 4.10, 3.21 is:

- (a) 3.82, 4.10, 3.21  
(c) 3.82, 3.21, 4.10

سوال نمبر 13: 3.82, 4.10, 3.21 کی ترتیب صعودی ہے۔  
(b) 3.21, 3.82, 4.10  
(d) 4.10, 3.82, 3.21

**Question No.14 :** 47% in decimal will be:

- (a) 0.47  
(c) 4.7

- (b) 0.74  
(d) 7.4

سوال نمبر 14: 47% کسر اعشاریہ میں ہو گا۔

**Question No.15 :** 17 km =

- (a) 170 m  
(c) 17000 m

میٹر 170  
میٹر 17000

- (b) 1700 m  
(d) 170000 m

سوال نمبر 15: = کلو میٹر 17

میٹر 1700

میٹر 170000

**Question No.16 :** 46 min 15 sec + 56 min 35 sec =

- (a) 46 min 50 sec  
(c) 81 min 21 sec

سیکنڈ 50 منٹ 46  
سیکنڈ 21 منٹ 81

- (b) 56 min 50 sec  
(d) 102 min 50 sec

سوال نمبر 16: = سیکنڈ 35 منٹ 56 + سیکنڈ 15 منٹ 46

سیکنڈ 50 منٹ 56

سیکنڈ 50 منٹ 102



**Question No.17 :** Waseem takes 1hr 25min to go to Office in the morning, while coming back to home,he takes 2hr 10min due to traffic. How much more time he takes to return home?

سوال نمبر 17: وسیم کو دفتر جاتے ہوئے 1 گھنٹہ اور 25 منٹ لگتے ہیں، جبکہ واپسی پر ٹریفک کی وجہ سے 2 گھنٹہ اور 10 منٹ لگتے ہیں۔ اسے گھر واپسی پر کتنا وقت زیادہ لگتا ہے؟

- |            |        |            |        |
|------------|--------|------------|--------|
| (a) 30 min | 30 منٹ | (b) 35 min | 35 منٹ |
| (c) 40 min | 40 منٹ | (d) 45 min | 45 منٹ |

**Question No.18 :** If the price of 5 pens is Rs. 125 then the price of 2 pens will be:

سوال نمبر 18: اگر 5 قلموں کی قیمت 125 روپے ہو تو 2 قلموں کی قیمت ہوگی۔

- |            |          |            |          |
|------------|----------|------------|----------|
| (a) Rs 25  | 25 روپے  | (b) Rs 50  | 50 روپے  |
| (c) Rs 100 | 100 روپے | (d) Rs 250 | 250 روپے |


**Question No.19 :** The supplement of  $125^\circ$  is:

سوال نمبر 19:  $125^\circ$  کا سپلیمنٹ ہے۔

- |                |                |
|----------------|----------------|
| (a) $35^\circ$ | (b) $55^\circ$ |
| (c) $80^\circ$ | (d) $90^\circ$ |

**Question No.20 :** The order of rotational symmetry of given figure is:

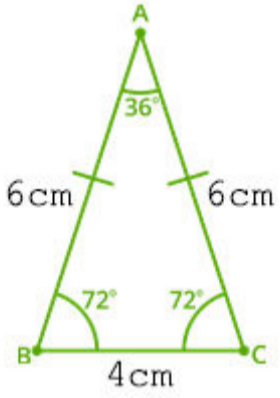
سوال نمبر 20: دی گئی شکل کے گردشی تشاکل کا درجہ ہے۔



- |       |       |
|-------|-------|
| (a) 3 | (b) 5 |
| (c) 6 | (d) 8 |

**Question No.21 :** The following triangle is a/an:

سوال نمبر 21: مندرجہ ذیل مثلث ہے۔



- |                          |                    |                          |                    |
|--------------------------|--------------------|--------------------------|--------------------|
| (a) Equilateral Triangle | مساوی الاضلاع مثلث | (b) Isosceles Triangle   | مساوی الساقین مثلث |
| (c) Scalene Triangle     | مختلف الاضلاع مثلث | (d) Right angle Triangle | قائمہ الزاویہ مثلث |

**Question No.22 :** The Perimeter of the given square is:

سوال نمبر 22: دیئے گئے مربع کا احاطہ ہے۔

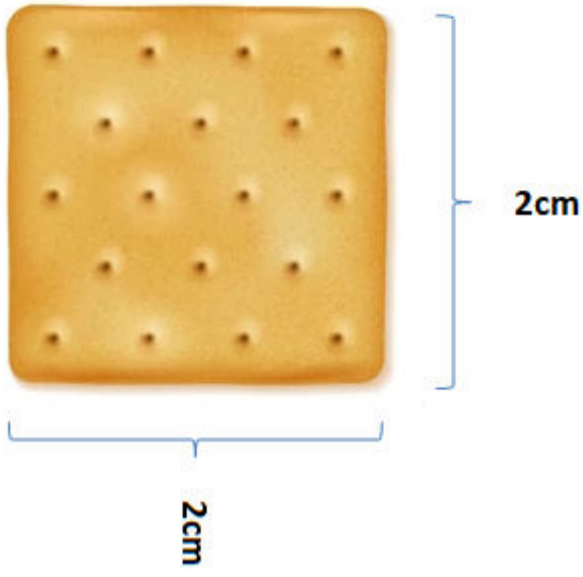


- |           |               |           |               |
|-----------|---------------|-----------|---------------|
| (a) 10 cm | 10 سینٹی میٹر | (b) 15 cm | 15 سینٹی میٹر |
| (c) 20 cm | 20 سینٹی میٹر | (d) 25 cm | 25 سینٹی میٹر |

Question No.23 :

The area of the given square shaped biscuit is:

سوال نمبر 23: دیئے گئے مربعی شکل کے بسکٹ کا رقبہ ہے۔



(a)  $2cm^2$

مربع سینٹی میٹر 2

(b)  $4cm^2$

مربع سینٹی میٹر 4

(c)  $6cm^2$

مربع سینٹی میٹر 6

(d)  $8cm^2$

مربع سینٹی میٹر 8

Question No.24 :

The average of 4 quantities is 150 then the sum of the quantities will be:

سوال نمبر 24: 4 مقداروں کا اوسط 150 ہو تو مقداروں کا مجموعہ ہوگا۔

(a) 300

(b) 450

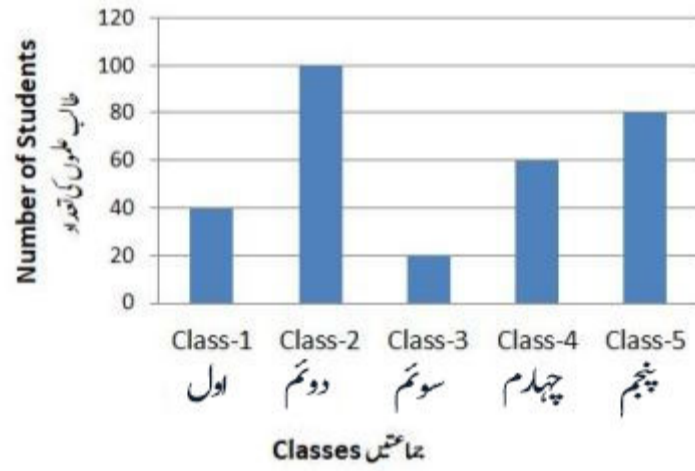
(c) 600

(d) 800

Question No.25 :

According to bar graph, which class has maximum number of students?

سوال نمبر 25: بار گراف کے مطابق کس جماعت میں سب سے زیادہ طالب علم ہیں؟



(a) Class-1

جماعت اول

(b) Class-2

جماعت دوئم

(c) Class-3

جماعت سوئم

(d) Class-4

جماعت چہارم



**SCHOOL BASED ASSESSMENT 2023**  
**MODEL PAPER**  
**GRADE 5**



**SCIENCE PART – B (Subjective Type)**

[Paper A: 50 Marks, Paper B: 50 Marks, Total: 100 Marks]

School : \_\_\_\_\_  
Tehsil : \_\_\_\_\_ District: \_\_\_\_\_

Student Name : \_\_\_\_\_ Section : \_\_\_\_\_

Roll Number : \_\_\_\_\_ Date : \_\_\_\_\_

**General Instructions for students :**

طلبا کے لیے عمومی ہدایات:

1. Use separate answer sheet for writing answers and give your personal information on it as well.  
۱. جوابات لکھنے کے لیے علیحدہ سے جوابی کاپی کا استعمال کریں اور اس کے اوپر بھی اپنے بارے میں معلومات دیں۔
2. Read carefully and attempt all questions.  
۲. غور سے پڑھیں اور تمام سوالات حل کریں۔
3. A question can consist of one or more parts.  
۳. ایک سوال ایک یا ایک سے زیادہ حصوں پر مشتمل ہو سکتا ہے۔
4. Use black/blue ink for writing answers. Use of lead pencil is not allowed.  
۴. جواب لکھنے کے لیے کالی/ نیلی روشنائی کا استعمال کریں۔ کچی پنسل کے استعمال کی اجازت نہیں ہے۔

**Total Marks: 50**

**Part-B (Constructed Response Questions)**

**Total Time: 1 Hour 45 Minutes**

**Question No: 1**

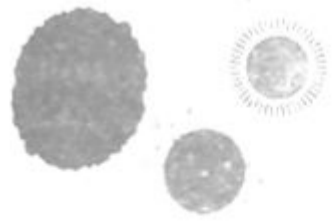
سوال نمبر 1

a) Write down the importance of decomposers. (2 Marks)

(a) ڈی کمپوزرز کی اہمیت بیان کریں۔ (2)

b) Write down the names of the given bacteria on the basis of their shapes. (3 Marks)

(b) دیئے گئے بیکٹیریا کی شکلوں کی بنیاد پر ان کے نام لکھیں۔ (3)



(a)



(b)



(c)

c) Write down the names of five ways of transmission of infectious diseases to humans. (5 Marks)

(c) انسانوں میں متعدی بیماریوں کی منتقلی کے پانچ طریقوں کے نام لکھیں۔ (5)

**Question No: 2**

سوال نمبر 2

a) Write down any two ways to control noise pollution. (2 Marks)

(a) صوتی آلودگی پر قابو پانے کے کوئی سے دو طریقے لکھیں۔ (2)

b) Explain physical and chemical changes. (4 Marks)

(b) طبعی اور کیمیائی تبدیلیوں کی وضاحت کریں۔ (4)

c) Write down any four effects of noise pollution on human health. (4 Marks)

(c) انسانی زندگی پر صوتی آلودگی کے کوئی سے چار اثرات لکھیں۔ (4)

Question No: 3


سوال نمبر 3

a) What is an opaque object? (1 Mark)

(a) غیر شفاف جسم سے کیا مراد ہے؟ (1)

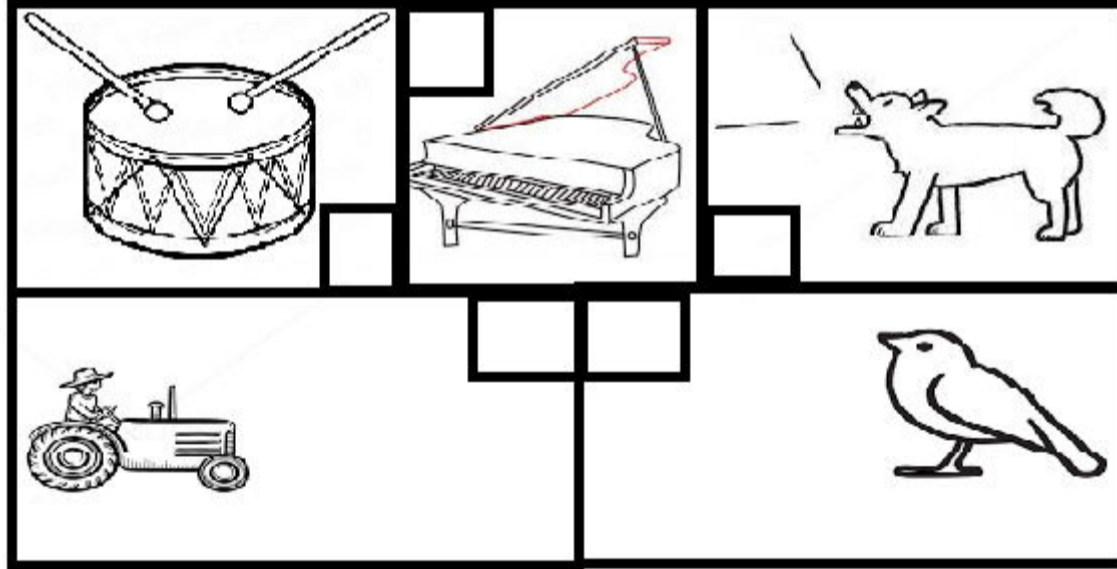
b) Mark tick for natural sources of light in the given image. (4 Marks)

(b) دی گئی تصویر میں روشنی کے قدرتی ذرائع پر ٹک کا نشان لگائیں۔ (4)



c) Mark tick for pleasant sound and cross for unpleasant sound in box of each image given below. (5 Marks)

(c) دی گئی تصویر کے ہر خانے میں خوشگوار آواز پر صحیح (ٹک) کا نشان لگائیں اور ناخوشگوار آواز پر غلط کا نشان لگائیں۔ (5)



Question No: 4

سوال نمبر 4

a) Define electric current. (2 Marks)

(a) الیکٹرک کرنٹ کی تعریف کریں۔ (2)

b) Write down the names of any two of each of the magnetic and non-magnetic materials. (4 Marks)

(b) مقناطیسی اور غیر مقناطیسی مواد کے کوئی سے دو دو نام لکھیں۔ (4)

c) What is a fuse? Why fuses are important in an electric circuit? (4 Marks)

(c) فیوز کیا ہوتا ہے؟ برقی راستہ میں فیوز کیوں اہمیت رکھتے ہیں؟ (4)

Question No: 5

سوال نمبر 5

a) Define artificial satellites. (2 Marks)

(a) مصنوعی سیٹلائٹس کی تعریف کریں۔ (2)

b) Write any four advantages of artificial satellites. (4 Marks)

(b) مصنوعی سیٹلائٹس کے کوئی سے چار فوائد تحریر کریں۔ (4)

c ) Define geo stationary satellite and write down its two uses. (4 Marks)

(c) جیو اسٹیشنری سیٹلائٹ کی تعریف کریں اور اس کے دو استعمالات لکھیں۔ (4)

**SCHOOL BASED ASSESSMENT 2023**  
**MODEL PAPER**  
**GRADE 5**



**SCIENCE PART – A (Objective Type)**

[Paper A: 50 Marks, Paper B: 50 Marks, Total: 100 Marks]

School : \_\_\_\_\_  
Tehsil : \_\_\_\_\_ District: \_\_\_\_\_

Student Name : \_\_\_\_\_ Section : \_\_\_\_\_  
Roll Number : \_\_\_\_\_ Date : \_\_\_\_\_

**General Instructions for students :**

طلباء کے لیے عمومی ہدایات:

1) Use mask & keep at least 3 ft. distance from each other.

۱۔ ماسک پہنیں اور آپس میں کم از کم 3 فٹ کا فاصلہ رکھیں۔

2) Read carefully and attempt all questions.

۲۔ غور سے پڑھیں اور تمام سوالات حل کریں۔

3) Encircle the correct option of each of the Multiple Choice Questions (MCQs) as shown in the example given below.

۳۔ ہر کثیر الانتخابی سوال کے صحیح جواب پر دائرہ لگائیں جیسا کہ نیچے دی گئی مثال میں دکھایا گیا ہے۔

**Example : Covid-19 is caused by:**

مثال : کووڈ-19 کی وجہ ہے :

a) bacteria      بیکٹیریا

b) fungi      فنجائی

© virus      وائرس

d) algae      الگی

4) If more than one options are encircled in a question, no mark will be given.

۴۔ اگر کسی سوال میں ایک سے زیادہ جوابات کے گرد دائرہ لگایا گیا تو کوئی نمبر نہیں دیا جائے گا۔

**Total Marks: 50**

**Part-A (Multiple Choice Questions)**

**Total Time: 1 Hour**

**Instructions: Twenty-five (25) Multiple Choice Questions (MCQs) are given in this paper. Each question carries two marks.**

ہدایات: اس پرچہ میں پچیس (25) کثیر الانتخابی سوالات دیے گئے ہیں۔ ہر سوال کے دو نمبر ہیں۔

**Question No.1 :**      **Kiwi has air sacs in its body, which class it belongs to?**

سوال نمبر 1: کیوی کے جسم میں ہوا کی تھیلیاں ہوتی ہیں، یہ کس کلاس سے تعلق رکھتا ہے؟

(a) Mammals

میملز

(b) Amphibia

ایمفی بیا

(c) Reptiles

ریپٹائلز

(d) Birds

پرندے

**Question No.2 :**      **Due to chlorophyll, plants leaves have \_\_\_\_\_ colour.**

سوال نمبر 2: کلوروفل کی وجہ سے، پودوں کے پتے \_\_\_\_\_ رنگ کے ہوتے ہیں۔

(a) Red

سرخ

(b) White

سفید

(c) Green

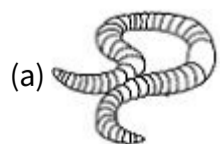
سبز

(d) Brown

بھورے

**Question No.3 :**      **Which of the following invertebrates lives only in the ocean?**

سوال نمبر 3: ذیل میں سے کون سا غیر فقاریہ جانور صرف سمندر میں رہتا ہے؟



**Question No.4 :** Which of the following gases is released into the environment during decomposition?

سوال نمبر 4: ڈی کمپوزیشن کے دوران مندرجہ ذیل میں سے کون سی گیس ماحول میں خارج ہوتی ہے؟

- (a) Oxygen آکسیجن (b) Hydrogen ہائیڈروجن  
(c) Carbon Dioxide کاربن ڈائی آکسائیڈ (d) Chlorine کلورین

**Question No.5 :** Which of the following diseases are caused by fungi?

سوال نمبر 5: درج ذیل میں سے کون سی بیماریاں فنجائی کے سبب ہوتی ہیں؟

- (a) COVID-19, Mumps کووڈ-19، ممپس (b) Smut, Typhoid سمٹ، ٹائیفائیڈ  
(c) Smut, Rust سمٹ، رسٹ (d) Tuberculosis, Ringworm ٹی بی، رنگ ورم

**Question No.6 :** Which one of the following is a female reproductive part of a flower?

سوال نمبر 6: مندرجہ ذیل سے پھول کا مادہ تولیدی حصہ کون سا ہے؟

- (a) Stamen سٹیمین (b) Anther اینتھر (c) Carpel کارپل (d) Petals پیٹلز

**Question No.7 :** Which of the following is male reproductive part of the flower?

سوال نمبر 7: مندرجہ ذیل میں سے پھول کا نر تولیدی حصہ کون سا ہے؟

- (a) Sepals سپلز (b) Petals پیٹلز (c) Stamen سٹیمین (d) Carpel کارپل

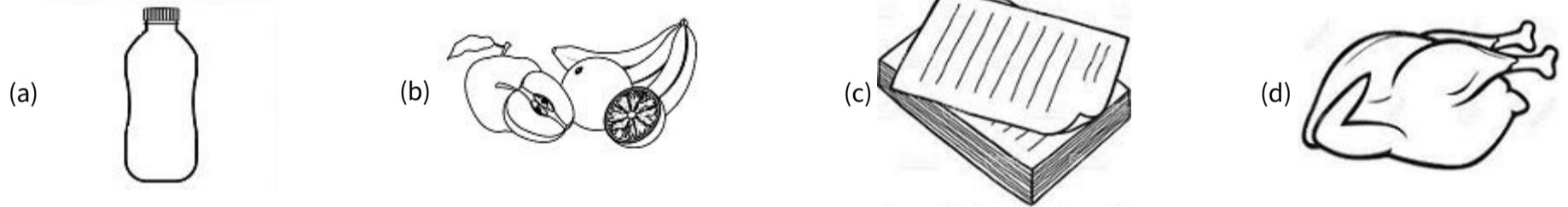
**Question No.8 :** Which of the following increases due to the greenhouse effect?

سوال نمبر 8: گرین ہاؤس ایفیکٹ کی وجہ سے، درج ذیل میں سے کس میں اضافہ ہوتا ہے؟

- (a) Ozone اوزون (b) Oxygen آکسیجن (c) Temperature درجہ حرارت (d) Water پانی

**Question No.9 :** Identify the Non-biodegradable material from the following.

سوال نمبر 9: مندرجہ ذیل سے ناقابل تحلیل مواد کی شناخت کریں۔



**Question No.10 :** In which of the following processes, dead bodies are changed into simpler components?

سوال نمبر 10: مندرجہ ذیل میں سے کس عمل میں، مردہ اجسام کو سادہ اجزاء میں تبدیل کیا جاتا ہے؟

- (a) Rusting زنگ لگنا (b) Burning جلنا (c) Melting پگھلنا (d) Decaying گلنا سڑنا

**Question No.11 :** In which of the following processes liquid is converted into gas?

سوال نمبر 11: مندرجہ ذیل میں سے کس عمل میں مائع گیس میں تبدیل ہوتا ہے؟

- (a) Condensation تکثیف (b) Melting پگھلنا (c) Evaporation تبخیر (d) Freezing جمنا

**Question No.12 :** Shadow is created when \_\_\_\_\_ comes in the way of light.

سوال نمبر 12: سایہ اس وقت بنتا ہے جب \_\_\_\_\_ روشنی کی راہ میں آتا/آتی ہے۔

- (a) book کتاب (b) water پانی (c) glass گلاس (d) air ہوا


**Question No.13 :** Which of the following is an artificial source of light?

سوال نمبر 13: مندرجہ ذیل میں سے روشنی کا مصنوعی ذریعہ کون سا ہے؟

- (a) Candle موم بتی (b) Firefly جگنو (c) Sun سورج (d) Moon چاند

**Question No.14 :** Identify natural source of light from the given images.

سوال نمبر 14: دی گئی تصاویر سے روشنی کے قدرتی ماخذ کی شناخت کریں۔





**Question No.15 :** Which of the following objects forms shadow?

سوال نمبر 15: درج ذیل میں سے کون سی شے سایہ بناتی ہے؟

- |           |      |           |      |
|-----------|------|-----------|------|
| (a) Glass | شیشہ | (b) Water | پانی |
| (c) Wood  | لکڑی | (d) Lens  | لینز |

**Question No.16 :** When we use magnetic compass to find direction, its needle stay towards:

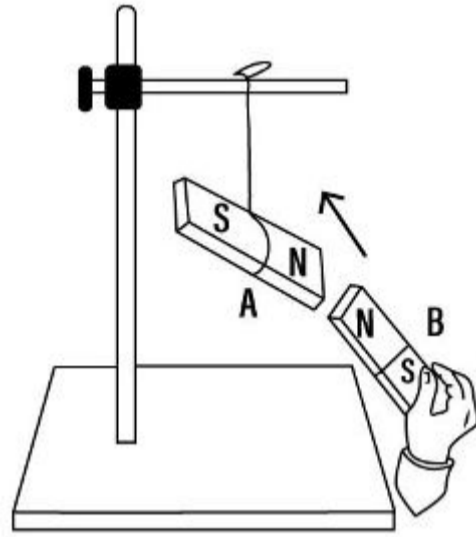
سوال نمبر 16: جب ہم سمت ڈھونڈنے کے لیے کمپاس استعمال کرتے ہیں تو اس کی سوئی \_\_\_\_\_ کی جانب ٹھہرتی ہے۔

- |                |           |                 |           |
|----------------|-----------|-----------------|-----------|
| (a) North-West | شمال-مغرب | (b) North-South | شمال-جنوب |
| (c) South-East | جنوب-مشرق | (d) South-West  | جنوب-مغرب |

**Question No.17 :** Image given below shows:

سوال نمبر 17: نیچے دی گئی تصویر کس بات کو ظاہر کر رہی ہے؟

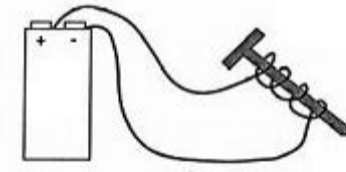
- |                                      |   |
|--------------------------------------|---|
| (a) North pole-North pole attraction | شمالی قطب - شمالی قطب کو کشش کرنے کی قوت  |
| (b) North pole-North pole repulsion  | شمالی قطب - شمالی قطب کو دفعہ کرنے کی قوت |
| (c) South pole-South pole attraction | جنوبی قطب - جنوبی قطب کو کشش کرنے کی قوت  |
| (d) South pole-South pole repulsion  | جنوبی قطب - جنوبی قطب کو دفعہ کرنے کی قوت |



**Question No.18 :** Which type of magnet is given in the image?

سوال نمبر 18: دی گئی تصویر میں مقناطیس کی کون سی قسم دکھائی گئی ہے؟

- |                      |                |
|----------------------|----------------|
| (a) U shaped magnet  | یو نما مقناطیس |
| (b) Permanent magnet | مستقل مقناطیس  |
| (c) Electromagnet    | برقی مقناطیس   |
| (d) Huge bar magnet  | بڑا بار میگنٹ  |



**Question No.19 :** Which force revolves the Earth around the Sun?

سوال نمبر 19: کون سی قوت زمین کو سورج کے گرد گھماتی ہے؟

- |              |          |                |     |              |      |                   |         |
|--------------|----------|----------------|-----|--------------|------|-------------------|---------|
| (a) Magnetic | مقناطیسی | (b) Frictional | رگڑ | (c) Electric | برقی | (d) Gravitational | کشش ثقل |
|--------------|----------|----------------|-----|--------------|------|-------------------|---------|

**Question No.20 :** Identify the correct sequence of layers of earth from outermost to the innermost.

سوال نمبر 20: زمین کی تہوں کی سب سے بیرونی سے اندرونی تہ کی ترتیب کا درست انتخاب کیجیے۔

- |                         |                  |                         |                  |
|-------------------------|------------------|-------------------------|------------------|
| (a) Crust, core, mantle | کرست، کور، مینٹل | (b) Core, mantle, crust | کور، مینٹل، کرست |
| (c) Crust, mantle, core | کرست، مینٹل، کور | (d) Core, crust, mantle | کور، کرست، مینٹل |

**Question No.21 :** Which of the following space objects helps us getting radio & television transmissions and information through internet?

سوال نمبر 21: درج ذیل میں سے کون سا فلکی جسم ہمیں ریڈیو اور ٹیلی ویژن کی ٹرانسمیشن اور انٹرنیٹ کے ذریعہ سے معلومات فراہم کرنے میں مدد کرتا ہے؟

- |                          |              |                       |             |
|--------------------------|--------------|-----------------------|-------------|
| (a) Moon                 | چاند         | (b) Star              | ستارا       |
| (c) Artificial satellite | مصنوعی سیارہ | (d) Natural satellite | قدرتی سیارہ |

**Question No.22 :** A pilot uses a pocket-sized instrument to find position on earth. What he uses in it?

سوال نمبر 22: ایک پائلٹ زمین پر پوزیشن معلوم کرنے کے لئے ایک چھوٹا سا آلہ استعمال کرتا ہے۔ وہ اس آلہ میں کیا استعمال کرتا ہے؟

- |                                |                     |                               |                     |
|--------------------------------|---------------------|-------------------------------|---------------------|
| (a) Global Processing System   | گلوبل پراسیسنگ سسٹم | (b) Global Positioning System | گلوبل پوزیشننگ سسٹم |
| (c) Global Positioning Service | گلوبل پوزیشننگ سروس | (d) Global Processing Service | گلوبل پراسیسنگ سروس |

Question No.23 : LED is abbreviation of:

سوال نمبر 23: ایل ای ڈی کس کا مخفف ہے؟

(a) Light Emitting Display

لائٹ امیٹنگ ڈسپلے

(b) Light Emulator Device

لائٹ امولیٹر ڈیوائس

(c) Light Emitting Diode

لائٹ امیٹنگ ڈائیوڈ

(d) Live Electronic Display

لائٹ الیکٹرونک ڈسپلے

Question No.24 : \_\_\_\_\_ equipment is used in an emergency and should be kept near the entrance of the laboratory.

سوال نمبر 24: \_\_\_\_\_ آلات ہنگامی حالات میں استعمال ہوتے ہیں اس لیے لیبارٹری کے دروازے کے قریب رکھنے چاہیں۔

(a) Chemical

کیمیائی

(b) Safety

حفاظتی

(c) Laboratory

لیبارٹری کے

(d) Electrical

برقی

Question No.25 : Which musical instrument from the following can be made by using a shoe box, pipe, scissors, rubber bands and glue?

سوال نمبر 25: جوتوں کا ڈبہ، پائپ، قینچی، ربڑ بینڈ اور گلو کا استعمال کر کے درج ذیل میں سے کون سا میوزیکل آلہ بنایا جاسکتا ہے؟

(a) Guitar

گٹار

(b) Piano

پیانو

(c) Trumpet

بگل

(d) Violin

وائلن

# SCHOOL BASED ASSESSMENT 2023

## MODEL PAPER

### GRADE 5

## SOCIAL STUDIES PART – B (Subjective Type)

[Part A: 50 Marks Part B: 50 Marks Total: 100 Marks]



School : \_\_\_\_\_  
Tehsil : \_\_\_\_\_ District: \_\_\_\_\_

Student Name : \_\_\_\_\_ Section : \_\_\_\_\_

Roll Number : \_\_\_\_\_ Date : \_\_\_\_\_

#### General Instructions for students :

1. Read carefully and attempt all questions.

۱۔ غور سے پڑھیں اور تمام سوالات حل کریں۔

2. A question can consist of one or more parts.

۲۔ ایک سوال ایک یا ایک سے زیادہ حصوں پر مشتمل ہو سکتا ہے۔

3. Use black/blue ink for writing answers in separate answer sheet. Use of lead pencil is not allowed.

۳۔ جواب لکھنے کے لیے الگ سے جوابی کاپی میں کالی / نیلی روشنائی کا استعمال کریں۔ کچی پنسل کے استعمال کی اجازت نہیں ہے۔

Total Marks: 50

Part-B (Open Ended Questions)

Total Time: 1 Hour 45 Minutes

#### Question No: 1

سوال نمبر 1

a) Write a note on Peace and Conflict. (Marks 06)

(a) امن اور تنازع پر نوٹ لکھیں: (نمبر 06)

b) Write four points of international human rights under the United Nations's Charter. (Marks 04)

(b) اقوام متحدہ کے چارٹر کے تحت عالمی انسانی حقوق کے چار نکات لکھیں: (نمبر 04)

#### Question No: 2

سوال نمبر 2

a) What is the reason for the popularity of the Colosseum? (Marks 02)

(a) کلوسیم کی وجہ شہرت کیا ہے؟ (نمبر 02)

b) What is meant by CE (Christ Era)? (02 Marks)

(b) سن عیسوی سے کیا مراد ہے؟ (نمبر 02)

c) Write a note on Gautam Buddha. (Marks 06)

(c) گوتام بدھ پر نوٹ لکھیں: (نمبر 06)

#### Question No: 3

سوال نمبر 3

a) Write down three reasons of inflation. (Marks 03)

(a) افراط زر کی تین وجوہات لکھیں: (نمبر 03)

b) What is meant by business? Explain with an example? (5 Marks)

(b) کاروبار سے کیا مراد ہے؟ مثال سے وضاحت کریں: (نمبر 05)

c) Define the Barter system. (Marks 02)

(c) بارٹر سسٹم کی تعریف کریں: (نمبر 02)

Question No: 4

سوال نمبر 4

a) How has the world been divided into time zone? How many time zones are there in the world? Give details. (Marks 05)

(a) دنیا کو کیسے ٹائم زونز میں تقسیم کیا گیا ہے؟ دنیا میں کتنے ٹائم زون ہیں؟ تفصیل بتائیں: (نمبر 05)

b) Write down five types of maps. (Marks 05)

(b) نقشوں کی پانچ اقسام تحریر کریں: (نمبر 05)

Question No: 5

سوال نمبر 5

a) Write a short note on Olympic Games: (Marks 05)

(a) اولمپک گیمز پر مختصر نوٹ لکھیں: (نمبر 05)

b) What is civilization? Write three names out of the world's earliest civilizations. (Marks 05)

(b) تہذیب کسے کہتے ہیں؟ دنیا کی اولین تہذیبوں میں سے تین کے نام لکھیں: (نمبر 05)

# SCHOOL BASED ASSESSMENT 2023

## MODEL PAPER

### GRADE 5

## SOCIAL STUDIES PART – A (Objective Type)

[Part A: 50 Marks Part B: 50 Marks Total: 100 Marks]



School : \_\_\_\_\_  
Tehsil : \_\_\_\_\_ District: \_\_\_\_\_

Student Name : \_\_\_\_\_ Section : \_\_\_\_\_  
Roll Number : \_\_\_\_\_ Date : \_\_\_\_\_

### General Instructions for students :

طلبہ کے لیے عمومی ہدایات:

1) Use mask & keep at least 3 ft. distance from each other.

۱۔ ماسک پہنیں اور آپس میں کم از کم 3 فٹ کا فاصلہ رکھیں۔

2) Read carefully and attempt all questions.

۲۔ غور سے پڑھیں اور تمام سوالات حل کریں۔

3) Encircle the correct option of each of the Multiple Choice Questions (MCQs) as shown in the example given below.

۳۔ ہر کثیر الانتخابی سوال کے صحیح جواب پر دائرہ لگائیں جیسا کہ نیچے دی گئی مثال میں دکھایا گیا ہے۔

Example : Which country is located in the north of Pakistan?

مثال : پاکستان کے شمال میں کون سا ملک واقع ہے؟

a) India بھارت

b) Afghanistan افغانستان

c) China چین

d) Iran ایران

4) Use black/blue ink for writing. Use of lead pencil is not allowed.

۴۔ لکھنے کے لیے کالی / نیلی روشنائی کا استعمال کریں۔ کچی پنسل کے استعمال کی اجازت نہیں ہے۔

5) If more than one options are encircled in a question, no mark will be given.

۵۔ اگر کسی سوال میں ایک سے زیادہ جوابات کے گرد دائرہ لگایا گیا تو کوئی نمبر نہیں دیا جائے گا۔

Total Marks: 50

Part-A (Multiple Choice Questions)

Total Time: 1 Hour

Instructions: Twenty-five (25) Multiple Choice Questions (MCQs) are given in this part. Each question carries two marks.

ہدایات: اس حصہ میں پچیس (25) کثیر الانتخابی سوالات دیے گئے ہیں۔ ہر سوال کے دو نمبر ہیں۔

Question No.1 : The most important responsibility of the digital citizen is to:

سوال نمبر 1: ڈیجیٹل شہری کی سب سے اہم ذمہ داری ہے:

(a) well-being of the world

دنیا کی فلاح و بہبود کے لیے

(b) solve problems through dialogue

بات چیت سے مسائل کا حل نکالنا

(c) keep the environment clean

ماحول کو صاف رکھنا

(d) avoid spreading false and immoral information

غلط اور غیر اخلاقی معلومات پھیلانے سے گریز کرنا

Question No.2 : The world has been made a global village by:

سوال نمبر 2: دنیا کو گلوبل وِیج بنا دیا ہے:

(a) the development of technology

ٹیکنالوجی کی ترقی نے

(b) the development of society

معاشرے کی ترقی نے

(c) the development of village

دیہات کی ترقی نے

(d) the development of business

کاروبار کی ترقی نے

**Question No.3 :** The islamic festivals celebrated in Pakistan are:

سوال نمبر 3: پاکستان میں اسلامی تہوار منائے جاتے ہیں:

- |               |            |            |           |
|---------------|------------|------------|-----------|
| (a) Christmas | کرسمس کے   | (b) Edains | عیدین کے  |
| (c) Besakhi   | بیساکھی کے | (d) Diwali | دیوالی کے |

**Question No.4 :** A digital citizen is who:

سوال نمبر 4: ڈیجیٹل شہری ہوتا ہے جو:

- |                       |                         |                          |                      |
|-----------------------|-------------------------|--------------------------|----------------------|
| (a) gets education    | تعلیم حاصل کرتا ہے      | (b) works in the office  | آفس میں کام کرتا ہے  |
| (c) uses the internet | انٹرنیٹ استعمال کرتا ہے | (d) works for the people | لوگوں کا کام کرتا ہے |

**Question No.5 :** Sound waves enable us to:

سوال نمبر 5: لہریں ہمیں بناتی ہیں:

- |   |                                  |                                   |                              |
|---|----------------------------------|-----------------------------------|------------------------------|
| (a) listen news on radio                          | ریڈیو پر خبریں سننے کے           | (b) read newspapers and magazines | اخبارات اور رسائل پڑھنے کے   |
| (c) acquisition of electricity and kinetic energy | بجلی اور حرکی توانائی کے حصول کے | (d) watch stage movies and dramas | سٹیج فلم اور ڈرامہ دیکھنے کے |

**Question No.6 :** The feelings and emotions among individuals created on the basis of colour, race, religion, region, language and customs called:

سوال نمبر 6: افراد کے مابین رنگ، نسل، مذہب، علاقے، زبان اور رسم و رواج کی بنا پر پیدا ہونے والے احساس اور جذبات کہلاتے ہیں:

- |             |     |                 |       |
|-------------|-----|-----------------|-------|
| (a) nation  | قوم | (b) state       | ریاست |
| (c) country | ملک | (d) nationalism | قومیت |

**Question No.7 :** Mahiya song is the identity of the:

سوال نمبر 7: ماہیہ گیت شناخت ہے:

- |               |             |              |             |
|---------------|-------------|--------------|-------------|
| (a) Pashtoons | پختونوں کی  | (b) Sindhis  | سندھیوں کی  |
| (c) Chitralis | چترالیوں کی | (d) Punjabis | پنجابیوں کی |

**Question No.8 :** The famous dish of Khyber Pakhton Khuwa (KPK) "Da Bizay Ghukha" is made up of:

سوال نمبر 8: خیبر پختونخواہ کا معروف پکوان "دبیزے غوخہ" بنایا جاتا ہے:

- |                 |               |                  |                |
|-----------------|---------------|------------------|----------------|
| (a) Bean Curd   | لوبیا کا سالن | (b) Boiled Rice  | ابلے ہوئے چاول |
| (c) Goat's Meat | بکرے کا گوشت  | (d) Corn's Bread | مکئی کی روٹی   |

**Question No.9 :** Responsibilities are imposed on Pakistani citizens to:

سوال نمبر 9: پاکستانی شہریوں پر ذمہ داریاں عائد ہوتی ہیں:

- |   |  |
|---|--|
| (a) improper use of the vote and protection of Government property. | ووٹ کا نامناسب استعمال اور سرکاری املاک کا تحفظ کرنا |
| (b) pay taxes on time and respect the laws of the land              | وقت پر ٹیکس ادا کرنا اور ملکی قوانین کا احترام کرنا  |
| (c) respect your rights and formulate foreign policy                | اپنے حقوق کا احترام کرنا اور خارجہ پالیسی ترتیب دینا |
| (d) respect the elders and visit the sick                           | بڑوں کی عزت کرنا اور بیماروں کی عیادت کرنا           |

**Question No.10 :** The Supreme Court of Pakistan has jurisdiction of:

سوال نمبر 10: سپریم کورٹ آف پاکستان کے پاس اختیار ہے:

- |                               |                        |                     |                       |
|-------------------------------|------------------------|---------------------|-----------------------|
| (a) law making                | قانون بنانے کا         | (b) law enforcement | قانون نافذ کرنے کا    |
| (c) interpretation of the law | قانون کی تشریح کرنے کا | (d) public welfare  | عوامی فلاح و بہبود کا |

**Question No.11 :** The head of state in Pakistan is called:

سوال نمبر 11: پاکستان میں ریاست کے سربراہ کو کہتے ہیں:

- |                    |           |                    |          |
|--------------------|-----------|--------------------|----------|
| (a) President      | صدر       | (b) Prime Minister | وزیراعظم |
| (c) Chief minister | وزیراعلیٰ | (d) Governor       | گورنر    |

**Question No.12 :** The constitution currently enforced in Pakistan is:

سوال نمبر 12: پاکستان میں اس وقت آئین نافذ ہے:

- |          |                  |          |                     |
|----------|------------------|----------|---------------------|
| (a) 1973 | انیس سو تہتر کا  | (b) 1956 | انیس سو چھپن کا     |
| (c) 1962 | انیس سو باسٹھ کا | (d) 1947 | انیس سو سینتالیس کا |

**Question No.13 :** Gandhara civilization was under the influence of:

سوال نمبر 13: گندھارا تہذیب زیر اثر تھی:

- |            |          |           |          |
|------------|----------|-----------|----------|
| (a) Arabia | عرب کے   | (b) Iran  | ایران کے |
| (c) India  | بھارت کے | (d) China | چین کے   |

**Question No.14 :** Tunic and Toga were worn by:

سوال نمبر 14: ٹونک اور ٹوگا پہنتے تھے:

- |                      |              |                          |                  |
|----------------------|--------------|--------------------------|------------------|
| (a) ancient Greeks   | قدیم یونانی  | (b) ancient Romans       | قدیم رومی        |
| (c) ancient Gandhara | قدیم گندھارا | (d) ancient Mesopotamian | قدیم میسوپوٹیمیا |

**Question No.15 :** Alexander the Great belonged to:

سوال نمبر 15: سکندرا عظیم کا تعلق تھا:

- |            |          |           |         |
|------------|----------|-----------|---------|
| (a) Greece | یونان سے | (b) Egypt | مصر سے  |
| (c) Iran   | ایران سے | (d) Iraq  | عراق سے |

**Question No.16 :** The ancient Greeks wore a rectangular piece of cloth that was called:

سوال نمبر 16: قدیم یونانی کپڑے کے مستطیل ٹکڑے کا لباس پہنتے جو کہلاتا تھا:

- |            |      |            |      |
|------------|------|------------|------|
| (a) Shirt  | شرٹ  | (b) Chiton | چیٹن |
| (c) Jacket | جیکٹ | (d) Cap    | ٹوپی |

**Question No.17 :** The most important lines amongst the longitudes and latitudes are:

سوال نمبر 17: خطوط طول بلد اور عرض بلد میں سب سے اہم خطوط ہیں:

- |                                      |                            |                                     |                               |
|--------------------------------------|----------------------------|-------------------------------------|-------------------------------|
| (a) Cancer and Capricorn lines       | خط سرطان اور خط جدی        | (b) North pole and South Pole lines | خط قطب شمالی اور خط قطب جنوبی |
| (c) Prime Meridian and Equator lines | خط نصف النہار اور خط استوا | (d) Cancer and Equator lines        | خط سرطان اور خط استوا         |

**Question No.18 :** The biggest loss of natural disasters is:

سوال نمبر 18: قدرتی آفات کا سب سے بڑا نقصان ہے:

- |                               |                   |                          |                      |
|-------------------------------|-------------------|--------------------------|----------------------|
| (a) environmental degradation | ماحول کی خرابی    | (b) loss of human lives  | انسانی جانوں کا ضیاع |
| (c) climate change            | موسمیاتی تبدیلیاں | (d) destruction of roads | سڑکوں کی تباہی       |

**Question No.19 :** One latitude is equal to:

سوال نمبر 19: ایک عرض بلد برابر ہے:

- |                   |                        |                   |                        |
|-------------------|------------------------|-------------------|------------------------|
| (a) Approx 111 Km | تقریباً 111 کلومیٹر کے | (b) Approx 222 Km | تقریباً 222 کلومیٹر کے |
| (c) Approx 333 Km | تقریباً 333 کلومیٹر کے | (d) Approx 444 Km | تقریباً 444 کلومیٹر کے |

**Question No.20 :** The British issued coins after the War of Independence 1857:

سوال نمبر 20: انگریزوں نے 1857ء کی جنگ آزادی کے بعد سکے جاری کیے:

- |            |          |            |          |
|------------|----------|------------|----------|
| (a) gold   | سونے کے  | (b) silver | چاندی کے |
| (c) bronze | کانشی کے | (d) copper | تانے کے  |

**Question No.21 :** Pakistan is a country:

سوال نمبر 21: پاکستان ملک ہے:

- |                       |            |                             |                     |
|-----------------------|------------|-----------------------------|---------------------|
| (a) populated         | آباد       | (b) less densely populated  | کم غیر گنجان آباد   |
| (c) densely populated | گنجان آباد | (d) least densely populated | سب سے کم گنجان آباد |

**Question No.22 :** The rate of annual increase in Pakistan's population is:

سوال نمبر 22: پاکستان کی آبادی میں سالانہ اضافہ کی شرح ہے:

(a) 2 percent

2 فیصد

(b) 2.4 percent

2.4 فیصد

(c) 3 percent

3 فیصد

(d) 3.4 percent

3.4 فیصد

**Question No.23 :** The list of dairy products is:

سوال نمبر 23: ڈیری مصنوعات کی فہرست ہے:

(a) wheat, rice and corn

گندم ، چاول اور مکئی

(b) biscuit, sweets and soft drinks

بسکٹ ، مٹھائیاں اور مشروبات

(c) mango, bananas and grapes

آم ، کیلے اور انگور

(d) eggs, milk and cheese

انڈے ، دودھ اور پنیر

**Question No.24 :** Bronze and Copper coins were made approximately 1000 BC in:

سوال نمبر 24: کانسی اور تانبے کے سکے تقریباً ایک ہزار قبل مسیح میں بنائے جاتے تھے:

(a) Japan

جاپان میں

(b) China

چین میں

(c) Iran

ایران میں

(d) Turkey

ترکی میں

**Question No.25 :** Arabs conquered the Sub-Continent in 712, and introduced the coins bearing:

سوال نمبر 25: عربوں نے 712 میں برصغیر کو فتح کیا اور سکے متعارف کروائے:

(a) Royal Symbols

شاہی علامتوں والے

(b) Islamic Calligraphy

اسلامی خطاطی والے

(c) Animal pictures

جانوروں کی اشکال والے

(d) Royal pictures

شاہی تصاویر والے



# SCHOOL BASED ASSESSMENT 2023

## MODEL PAPER

### GRADE 5

## URDU PART – B (Subjective Type)

[Part A: 50 Marks Part B: 50 Marks Total: 100 Marks]



School : \_\_\_\_\_  
Tehsil : \_\_\_\_\_ District: \_\_\_\_\_

Student Name : \_\_\_\_\_ Section : \_\_\_\_\_

Roll Number : \_\_\_\_\_ Date : \_\_\_\_\_

طلبا کے لیے عمومی ہدایات:

- ۱۔ جواب لکھنے کے لیے علیحدہ سے جوابی کاپی کا استعمال کریں اور اس کے اوپر بھی اپنے بارے میں معلومات دیں۔
- ۲۔ غور سے پڑھیں اور تمام سوالات حل کریں۔
- ۳۔ ایک سوال ایک یا ایک سے زیادہ حصوں پر مشتمل ہو سکتا ہے۔
- ۴۔ جواب لکھنے کے لیے کالی/ نیلی روشنائی کا استعمال کریں۔ کچی پنسل کے استعمال کی اجازت نہیں ہے۔

کل نمبر: 50

(حصہ ب) (انشائیہ سوالات)

وقت: 1 گھنٹہ 45 منٹ

سوال نمبر 1: : درج ذیل اشعار کو نثر میں تبدیل کر کے لکھیں۔ (کل نمبر 10)

ہونے کو آئی صبح تو ٹھنڈی ہوا چلی

کیا دھیمی دھیمی چال سے یہ خوش ادا چلی

لہرا دیا ہے کھیت کو، ہلتی ہیں بالیاں

پودے بھی جھومتے ہیں لچکتی ہیں ڈالیاں

سوال نمبر 2: : چھوٹے بھائی کے نام خط لکھیں جس میں اُسے گھر کی دیکھ بھال کی تلقین کریں۔ (کل نمبر 10)

سوال نمبر 3: : ”شہری یا دیہاتی زندگی“ کو پسند کرنے کے عنوان پر دس جملوں پر مشتمل مضمون لکھیں۔ (کل نمبر 10)

سوال نمبر 4: : ایک کہانی لکھیں جس کا ن تیجہ: ”احسان کا بدلہ احسان ہو۔“ (کل نمبر 10)

- ممتحن کمرے کو شور اور خلفشار سے پاک بنائے گا۔
- ممتحن طلبہ کو بتائے گا کہ وہ ایک پیرا گراف کو دو بار سننے جا رہے ہیں اور پیرا گراف کو توجہ سے سنا جائے۔
- ممتحن کلاس میں متن کے پیرا گراف کو دو بار اونچی آواز میں پڑھے گا۔
- سوالات پڑھنے کے بعد ممتحن طلبہ کو بتائے گا کہ وہ پیپر پر مہیا کی گئی جگہ پر سوالات کے جوابات لکھیں۔
- ممتحن اس بات کو یقینی بنائے گا کہ طلبہ کو سوالات کی سمجھ آگئی ہے اور وہ پیپر پر لکھنے کے قابل ہیں۔
- طلبہ کو 15 منٹ تک وقت دیا جائے گا کہ وہ اپنا جواب تسلی سے لکھیں اور اس کے بعد طلبہ سے یہ شیٹ واپس لے لی جائے گی۔

#### پیرا گراف:

انٹرنیٹ کا استعمال بزرگوں میں بھی عام ہوتا جا رہا ہے۔ دانیال کے دادا دادی قرآن پاک کی تلاوت انٹرنیٹ کے ذریعے سے سننے کا اہتمام کرتے ہیں۔ مکہ منورہ اور مدینہ منورہ سے نشر ہونے والی اذان اور نماز کی ادائیگی براہ راست دیکھنا بھی ممکن ہو گیا ہے۔ دنیا کا شاید ہی کوئی شعبہ ایسا ہو جس کے بارے میں انٹرنیٹ سے رہنمائی نہ ملتی ہو۔ طب اور دفاع کے شعبوں میں بھی انٹرنیٹ سے استفادہ کیا جا رہا ہے۔ ہزاروں میل کی دوری پر مریض اور معالج ایک دوسرے سے رابطہ کر سکتے ہیں۔ مرض کی تشخیص اور ادویات کے متعلق معلومات کے تبادلے بھی انٹرنیٹ کی مدد سے ممکن ہو گئے ہیں۔

نوٹ: یہاں سے پیپر الگ کر لیں۔-----✂

عزیز طلبہ! آپ کو پیرا گراف پڑھ کر سنایا جائے گا۔ آپ پیرا گراف کو غور سے سنیں۔ پیرا گراف سننے کے بعد مندرجہ ذیل سوالات کے جوابات دیں۔ (کل نمبر 10)

سوالات:

- i- انٹرنیٹ کتنے شعبوں میں رہنمائی فراہم کرتا ہے؟ (2)
- ii- انٹرنیٹ سے کیا فائدہ ہوتا ہے؟ (2)
- iii- انٹرنیٹ کو مریض کس لیے استعمال کر سکتا ہے؟ (2)
- iv- لفظ ”مریض“ کا متضاد بتائیں۔ (2)
- v- لفظ ”استفادہ“ کا معنی کیا ہے؟ (2)

# SCHOOL BASED ASSESSMENT 2023

## MODEL PAPER

### GRADE 5

## URDU PART – A (Objective Type)

[Part A: 50 Marks Part B: 50 Marks Total: 100 Marks]



School : \_\_\_\_\_

Tehsil : \_\_\_\_\_

District: \_\_\_\_\_

Student Name : \_\_\_\_\_

Section : \_\_\_\_\_

Roll Number : \_\_\_\_\_

Date : \_\_\_\_\_

طلبا کے لیے عمومی ہدایات:

۱۔ ماسک پہنیں اور آپس میں کم از کم 3 فٹ کا فاصلہ رکھیں۔

۲۔ غور سے پڑھیں اور تمام سوالات حل کریں۔

۳۔ ہر کثیر الانتخابی سوال کے صحیح جواب پر دائرہ لگائیں جیسا کہ نیچے دی گئی مثال میں دکھایا گیا ہے۔

مثال : چیچڑ کی وجہ سے پھیلنے والی بیماری ہے:

(b) خسره

(a) پولیو

(d) کانگو

(c) ڈینگی

۴۔ اگر کسی سوال میں ایک سے زیادہ جوابات کے گرد دائرہ لگایا گیا تو کوئی نمبر نہیں دیا جائے گا۔

کل نمبر: 50

(حصہ الف) کثیر الانتخابی سوالات

وقت: 1 گھنٹہ

ہدایات: اس پیپر میں بیچیں کثیر الانتخابی سوالات دیے گئے ہیں۔ ہر سوال کے 2 نمبر ہیں۔

سوال نمبر 1: بے ربط گفتگو کا جملہ ہے:

(b) ندا کو سخت بخار تھا اس لیے وہ دوا لینے ہسپتال چلی گئی۔

(a) نیاز نے سکول جانا تھا اس لیے وہ ناشتہ کر کے گھر چلا گیا۔

(d) قمر نے بشیر سے پانی مانگا کیونکہ وہ پیاسا تھا۔

(c) وہ میرے پاس آئے گا تو میں اس کی مدد کروں گا۔

سوال نمبر 2: درست الف بائی ترتیب کی پہچان کریں:

(d) پڑھنا، سبق، مسلم، نیکی

(c) مسلم، سبق، نیکی، پڑھنا

(b) پڑھنا، مسلم، نیکی، سبق

(a) نیکی، سبق، پڑھنا، مسلم

سوال نمبر 3: درست محاورہ ہے:

(d) جس کی لاٹھی اس کی بھینس

(c) جس کی لاٹھی اس کی گائے

(b) جس کی لاٹھی اس کی بکری

(a) جس کی لاٹھی اس کی مرغی

سوال نمبر 4: احمد کو اچھی نوکری حاصل کرنے کے لئے کافی پا پڑے۔

(d) جھیلنا

(c) دھکیلنا

(b) پیلنا

(a) بیلنا

سوال نمبر 5: درست املا والا لفظ ہے۔

(d) اسلاہ

(c) اصلاہ

(b) اسلاج

(a) اصلاہ

سوال نمبر 6: ۸۹ کو لفظوں میں لکھتے ہیں:

(d) ننانوے

(c) انو اسی

(b) نو اسی

(a) اناسی

سوال نمبر 7: عددی ترتیب کے لحاظ سے درست جملہ ہے:

- (a) خاقان کمرہ جماعت میں اٹھارویں کرسی پر بیٹھتا ہے۔  
(b) خاقان کمرہ جماعت میں اٹھارہ کرسی پر بیٹھتا ہے۔  
(c) خاقان کمرہ جماعت میں اٹھارواں کرسی پر بیٹھتا ہے۔  
(d) خاقان کمرہ جماعت میں اٹھاروں کرسی پر بیٹھتا ہے۔

سوال نمبر 8: "شکاری کے جال میں شکار پھنس گیا ہے۔" یہ جملہ فعل ماضی میں ہو گا:

- (a) شکاری کے جال میں شکار پھنس رہا ہے۔  
(b) شکاری کے جال میں شکار پھنس گیا تھا۔  
(c) شکاری کے جال میں شکار پھنس چکا ہے۔  
(d) شکاری کے جال میں شکار پھنس جائے گا۔

سوال نمبر 9: "حکام" کا واحد ہے:

- (a) حکم (b) حکمت (c) حاکم (d) حکیم

سوال نمبر 10: مترادف الفاظ کا جوڑا ہے:

- (a) جنت، دوزخ (b) شمس، سورج (c) دوست، دشمن (d) دن، رات

سوال نمبر 11: تائید جان دار کے مطابق فعل کے استعمال والا جملہ ہے:

- (a) مدثر تقریر یاد کرتا ہے۔  
(b) ڈاکٹر مریض کو دوا دیتا ہے۔  
(c) صوفیہ سکول جاتی ہے۔  
(d) ندیم کمپیوٹر کا استعمال جانتا ہے۔

سوال نمبر 12: سابقہ "با" سے بننے والی درست فہرست ہے۔

- (a) باشعور۔ باپسند۔ باشمار (b) باخبر۔ باجماعت۔ باآسانی  
(c) باحیا۔ باصورت۔ باکمال (d) باحروف۔ بانہال۔ باتاریخ

سوال نمبر 13: "اکرم اچھا لڑکا ہے۔" اس جملے میں اسم صفت ہے:

- (a) اکرم (b) اچھا (c) لڑکا (d) ہے

سوال نمبر 14: حرف افسوس والا جملہ ہے:

- (a) واہ! کیا خوبصورت پھول ہے۔ (b) ہائے ہائے! میری کتاب کھو گئی۔  
(c) یا اللہ! رحم فرما۔ (d) کاش! تم سچ بولتے۔

سوال نمبر 15: درست شکلیہ جملہ ہے:

- (a) اگر وہ پڑھتا تو کامیاب ہو جاتا۔  
(b) کاش! اس کی گاڑی خراب نہ ہوتی۔  
(c) اس نے خط لکھا ہو گا۔  
(d) واجد کہاں گیا ہے؟

سوال نمبر 16: حرف عطف کے استعمال والا جملہ ہے:

- (a) درخت پر چڑیا بیٹھی ہے۔ (b) درخت پر دو پرندے بیٹھے ہیں۔  
(c) درخت پر چڑیا، طوطا بیٹھے ہیں۔ (d) درخت پر چڑیا اور طوطا بیٹھے ہیں۔

سوال نمبر 17: فعل کی فاعل اور مفعول سے مطابقت والا جملہ ہے:

- (a) ساجدہ نے چائے بنائی۔ (b) اکرم نے کتاب پڑھا۔  
(c) زبیدہ نے کہانی سنایا۔ (d) نجمہ نے کھیر پکایا۔

سوال نمبر 18: قوسین کے لحاظ سے درست جملہ ہے:

- (a) (ڈاکٹر غلام مصطفیٰ اردو) کے اُستاد میرے بھائی ہیں۔  
(b) ڈاکٹر غلام مصطفیٰ (اردو کے اُستاد) میرے بھائی ہیں۔  
(c) ڈاکٹر غلام (مصطفیٰ اردو کے) اُستاد میرے بھائی ہیں۔  
(d) ڈاکٹر غلام مصطفیٰ اردو کے اُستاد میرے (بھائی ہیں)۔

سوال نمبر 19: ٹانگیں چار مگر بے کار چلنا پھر بھی ہے دشوار

اس پہیلی کی بوجھ ہے:

- (a) کتاب (b) گرسی (c) قلم (d) دروازہ

سوال نمبر 20: لغت میں معانی تلاش کرنے کے لیے الفاظ کی درست ترتیب ہے:

- (a) خوف، دُم، بھیڑ (b) دُم، بھیڑ، خوف  
(c) خوف، بھیڑ، دُم (d) بھیڑ، خوف، دُم

مندرجہ ذیل پیرا گراف پڑھ کر نیچے دیے گئے سوالات کے جوابات دیجیے۔

اپنا مال ضرورت کے مطابق خرچ کرنا اور حد سے آگے نہ بڑھنا کفایت شعاری کہلاتا ہے۔ کفایت شعاری کو اپنا کر انسان کبھی تنگ دست نہیں ہوتا۔ اپنی جائز ضروریات پر خرچ کر کے اور فضول خرچی نہ کر کے ہم اپنی زندگی کو آسان بنا سکتے ہیں۔ خرچ کرنے کے مواقع پر خرچ نہ کرنا بھی برا عمل ہے اس عمل سے ہمیں اسلام نے سختی سے منع کیا ہے۔ کوئی بھی شخص میانہ روی اختیار کر کے اپنی زندگی کو مشکلات اور مالی پریشانیوں سے بچا سکتا ہے۔ فضول خرچی کی عادت انسان کو ناجائز ذرائع سے کمانے پر آمادہ کرتی ہے۔ اس طرح وہ پورے معاشرے کے لیے نقصان دہ ثابت ہو سکتا ہے۔

سوال نمبر 21: غیر ضروری اخراجات سے پرہیز کرنا کہلاتا ہے:

- (a) دیانت داری (b) ایمانداری (c) وفاداری (d) کفایت شعاری

سوال نمبر 22: خرچ کرنے کے موقع پر خرچ نہ کرنے والا کہلاتا ہے:

- (a) کفایت شعار (b) اعتدال پسند (c) سخی (d) کنجوس

سوال نمبر 23: میانہ روی اختیار کرنے والا شخص کبھی نہیں ہوتا:

- (a) خوشحال (b) تنگدست (c) مطمئن (d) رئیس

سوال نمبر 24: فضول خرچی کی عادت انسان کو مائل کرتی ہے:

- (a) جائز ذرائع کی طرف (b) ناجائز ذرائع کی طرف (c) حلال ذرائع کی طرف (d) میانہ روی کی طرف

سوال نمبر 25: درج بالا پیرا گراف کا عنوان ہے:

- (a) دیانت داری (b) کفایت شعاری (c) فضول خرچی (d) دیانت داری